
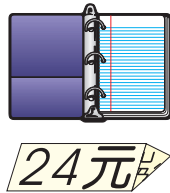
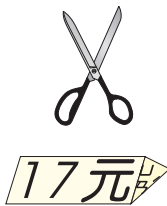
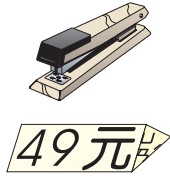



下面是文具用品的價格表，請你回答下面的問題：



阿華買了1枝鉛筆和1把剪刀，要付多少錢？

<p>用⑩和①畫圖，</p>	<p>算式：</p> <p>答：</p>
----------------	---------------------------------

小明帶了6個10元，共()元，買了1本，剩下()元。

<p>用⑩和①畫圖，</p>	<p>算式：</p>
----------------	------------

小英只有25元，她想買1個計算機，但是錢不夠，後來爸爸給她50元，請問小英能買計算機了嗎？

<p>用⑩和①畫圖，</p>	<p>算式：</p> <p>答：</p>
----------------	---------------------------------

接上頁

阿正買了3枝鉛筆，要付多少錢？




  (5) (1) (1) (1)  (5) (1) (1) (1)  (5) (1) (1) (1)	算式： 答：
---	-----------------------

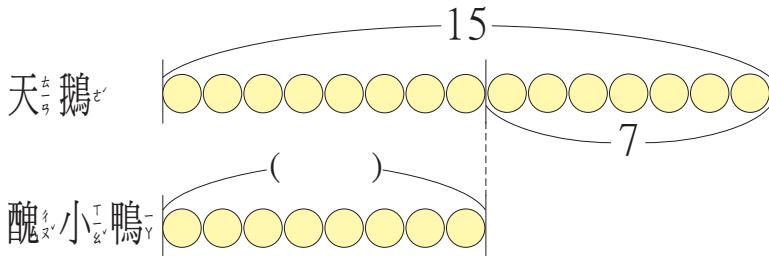
小珍買了一個釘書機和1瓶膠水，共花了多少錢？

	算式： 答：
---	-----------------------

接上題，小珍付100元給老闆，會找回多少錢？

	算式： 答：
---	-----------------------

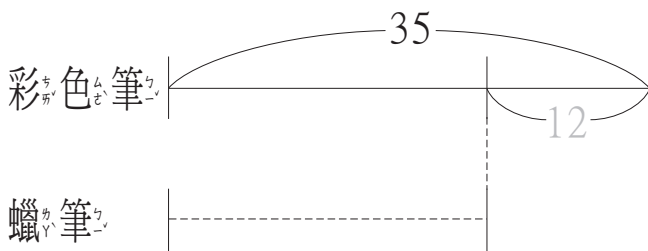
池塘裡有15隻天鵝，和一群醜小鴨，醜小鴨比天鵝少7隻，醜小鴨有幾隻？



算式：

答：醜小鴨有_____隻

彩色筆一盒35元，蠟筆一盒比彩色筆便宜12元，蠟筆一盒多少錢？



算式：

答

花園裡有百合花46朵和一些玫瑰花，玫瑰花比百合花少8朵，玫瑰花有幾朵？



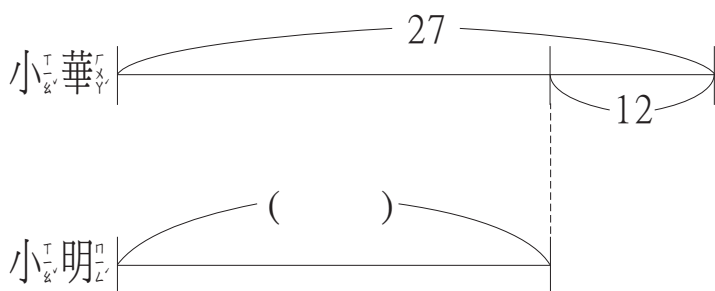
百合花

算式：

玫瑰花

答：

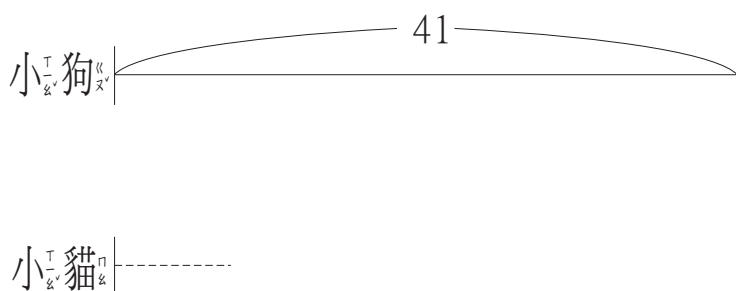
小華有27元，小明比小華少12元，請問小明有幾元？



算式：_____

答：小明有()元

小狗有41隻，小貓比小狗少19隻，請問小貓有幾隻？



算式：_____

答：小貓有()隻

豬肉一盒賣68元，雞肉比豬肉少25元，請問雞肉一盒賣多少錢？



算式：_____

答：

★ 叔叔今年23歲，再過幾年，叔叔就40歲了？

★ 弟弟今天寫了32題數學題，下午寫了一些後，剩下11題沒寫，請問弟弟下午寫了幾題？

YMY



答：

答：

★ 停車場上原來有60輛汽車，後來開走一些後，剩下51輛汽車，請問開走的汽車有幾輛呢？

YMY



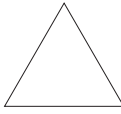





答：

★ 遊覽車上有45個座位，現在已經有27人上車，再多幾個客人上車，就可以坐滿45個座位？

YMY



答：

形 狀 顏 色			
	23	67	55
	14	41	56
	38	75	82

$100 - \triangle_{23} = (\quad)$
 $100 - 20 = 80$
 $80 - 3 =$


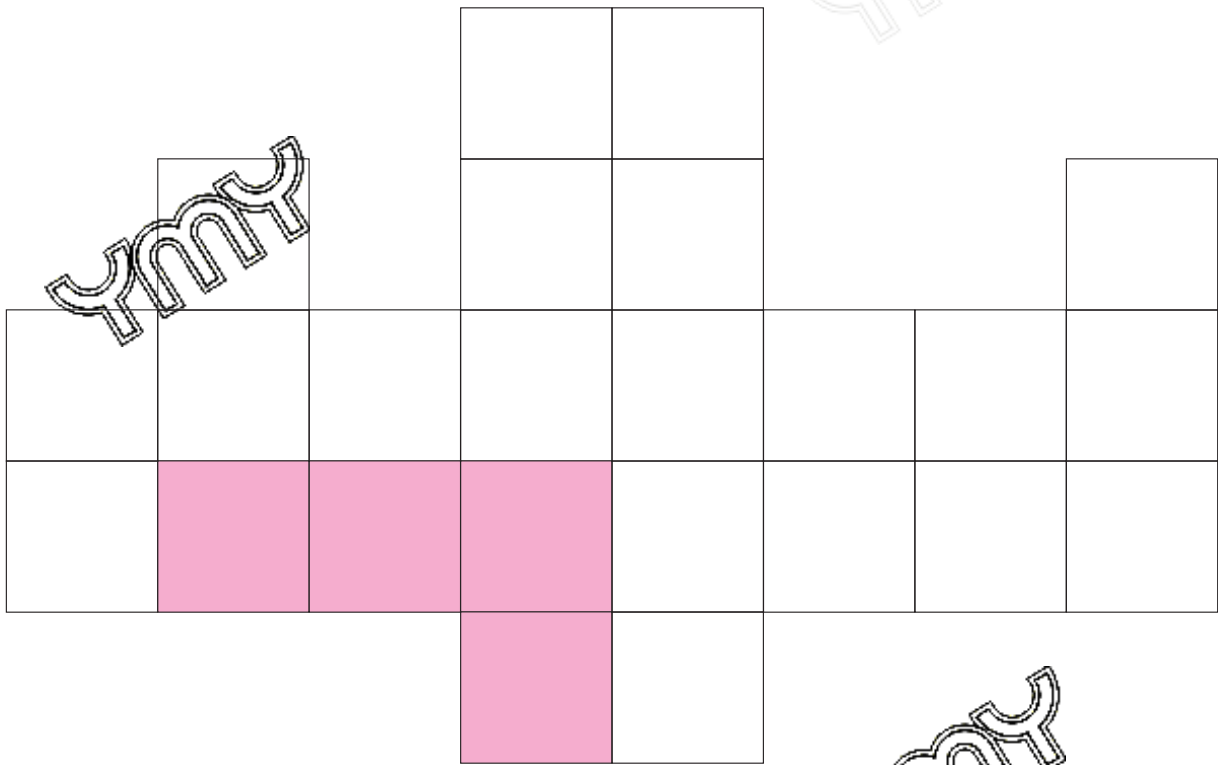
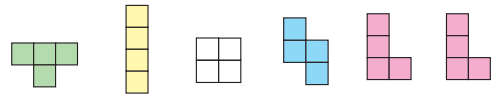
$100 - \heartsuit = (\quad)$

$100 - \heartsuit = (\quad)$

$100 - \blacksquare = (\quad)$

$100 - \blacksquare = (\quad)$





下面是早餐店的價目表：

 漢堡.....65元	 紅茶.....7元
 薯條.....32元	 奶茶.....12元
 雞塊.....48元	 牛奶.....15元
 熱狗.....10元	 咖啡.....22元

婷婷吃一個漢堡，又喝了一杯紅茶，要付多少元？

<p>用⑩和①畫圖，</p>	<p>算式：</p>
	<p>答：_____</p>

文文帶50元，買了1包薯條後，會剩下幾元？

<p>用⑩和①畫圖，</p>	<p>算式：</p>
	<p>答：_____</p>

叮叮有30元，想買一盒雞塊，但是錢不夠，請問叮叮不夠多少錢？

<p>用⑩和①畫圖，</p>	<p>算式：</p>
	<p>答：_____</p>

接上頁



阿呆買了3杯紅茶，要付多少錢？



5 1 1

算式：

答：



啍啍買了1包薯條和1杯咖啡，共花了多少元？

算式：

答：

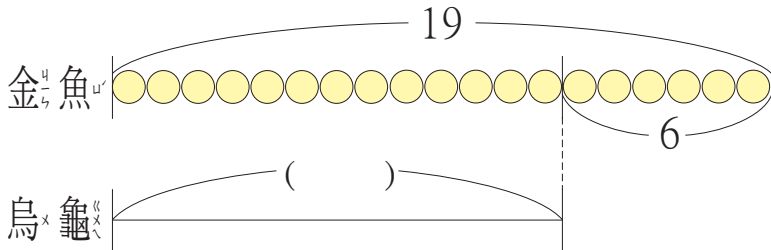


接上題，啍啍付100元給老闆，會找回多少錢？

算式：

答：

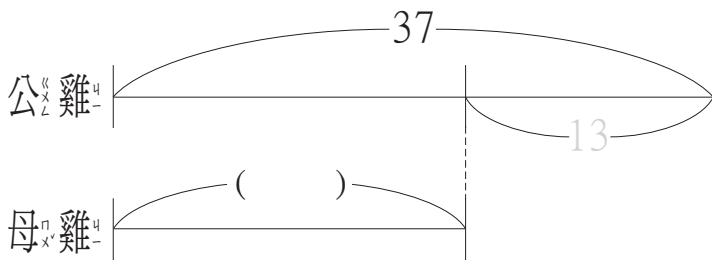
魚缸裡有一些金魚和烏龜，金魚有19隻，烏龜比金魚少6隻，烏龜有幾隻？



算式：

答：烏龜有 隻

養雞場裡公雞有37隻，母雞比公雞少13隻，母雞有幾隻？



算式：

桌上有40本課本和32本習作，哪一種比較少？少幾本？



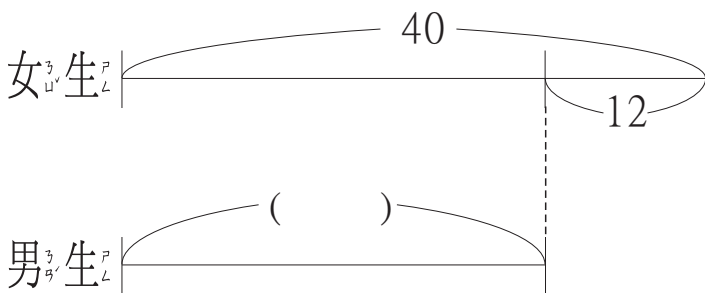
課本

算式：

習作

答：①
②

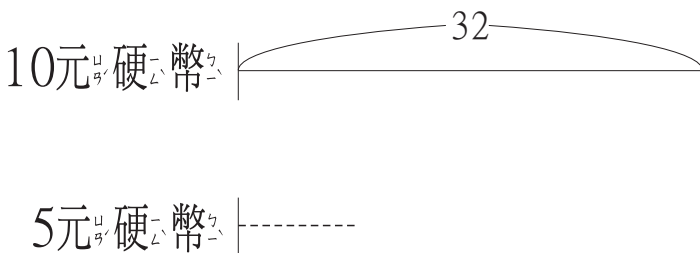
教室裡有40位女生，還有一些男生，男生比女生少12人，請問男生有多少人？



算式：

答：男生有()人

美美有32個10元硬幣，還有一些5元硬幣，5元硬幣比10元硬幣少9個，請問5元硬幣有幾個？



算式：

答：5元硬幣有()個

書桌上有一些原子筆，紅筆有59枝，藍筆比紅筆少23枝，請問藍筆有幾枝？

紅筆

藍筆

算式：

答：

★ 小強收集了26張卡片，
他再收集幾張，就有40
張卡片？

★ 森林裡有30隻兔子，有
些被獵人捉走了，剩下
18隻兔子，被獵人捉走
的兔子有幾隻呢？

答：



★ 小美有59張獎勵卡，換了一枝自動鉛筆後，還剩下22張，請問一枝自動鉛筆需要幾張獎勵卡才能換？



★ 小華有50元，買了一個
29元的鉛筆盒後，剩下
的錢剛好可以買一打鉛
筆，請問一打鉛筆是多
少錢？

★ 養雞場今天有27顆雞蛋
後，後來孵出了一些小
雞，剩下13顆雞蛋，請
問孵出來的小雞有多
少呢？

答：

答：



顏色 形狀			
	43	51	64
	35	28	12
	77	83	56

$$100 - \underset{28}{\text{★}} = (\quad)$$

$$100 - \text{♠} = (\quad)$$

$$100 - \text{◆} = (\quad)$$

$$100 - \text{★} = (\quad)$$