



小齊參加登山健行活動，去程走了3時29分，回程走了2時47分，請問他一共走了幾時幾分？

算式填充題：3時29分 + 2時47分 = ()時()分

橫式記錄

$$3\text{時} + 2\text{時} = 5\text{時}$$

$$29\text{分} + 47\text{分} = 76\text{分} = 1\text{時}16\text{分}$$

$$5\text{時} + 1\text{時}16\text{分} = 6\text{時}16\text{分}$$

直式記錄

3 時	29 分
+ 2 時	47 分
5 時	76 分
6 時	16 分

答：他一共走了()時()分



姊姊練習打字，早上花了2時35分，晚上花了4時58分，姊姊共花了多少小時多少分鐘在打字？

算式填充題：_____

橫式記錄

直式記錄



小文從家裡走到公園要8分52秒，再從公園走到學校要7分39秒，請問小文從家裡走到公園，再從公園走到學校共用去多少分多少秒？

算式填充題：_____

橫式記錄

直式記錄



6時37分 + 5時29分 = ()時()分

時	分	
6	37	
+	5	29
11	66	
12	6	

記在「時」下面的數字表示 幾時

記在「分」下面的數字表示

記在「秒」下面的數字表示

依照小老師的方法，完成下面各題：



11時56分 + 8時42分 = ()時()分

7時24分 + 9時48分 = ()時()分

9分23秒 + 10分46秒 = ()分()秒

7分52秒 + 18分59秒 = ()分()秒

有玉米5603包，用一輛卡車搬運到倉庫，如果卡車一次可載45包，要幾次才能全部運完？最後一次還可以再多載幾包玉米，才能剛好裝成一車？

算式填充題：_____



答：

甲乙丙丁戊五校各派出1746人參加區運大會舞的表演，平均每97人編成一隊，共可以編成多少隊？

算式填充題：_____



答：

★ 便利商店三星期共收13303元，共支出3475元，平均每天賺多少錢？

一式完成：

○

★ 有一批○，破掉了26個，其餘的每43個裝成一籃，恰好裝滿114籃，請問這一批○原來共有多少個？如果把剩下的改裝成57籃，每籃可以裝幾個○？

○

★ 小尹原來有8361元，買了37本英文故事書後，還剩下36元，請問每本故事書的價錢是多少？

一式完成：

○

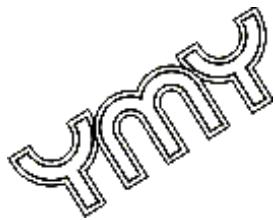
★ 6524最多要再減去多少，才能被47整除？



1分公升 = 100 毫公升，1毫公升 = _____ 分公升

1公升 = _____ 毫公升，558毫公升 = _____ 公升

7公升 = _____ 分公升，50分公升 = _____ 公升



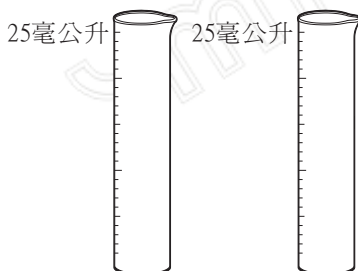
畫畫看，水面會到哪裡？



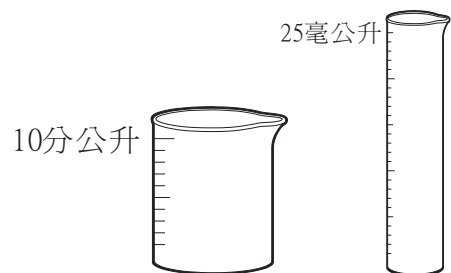
4分公升



1公升



41毫公升




319毫公升

如何判別分公升和毫公升有多少呢？

1瓶養樂多的容量大約是1分公升

喝感冒糖漿時，一般所附帶的瓶蓋大約有5毫公升

1.



水族箱的容量大約是4_____

2.



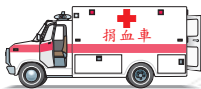
全家喝的果汁1瓶裝有20_____

3.



爸爸今天早上喝的咖啡容量是5_____

4.



每次捐血大約是250_____

5.




一個水壺裡裝了1_____680_____的水

6.



媽媽買一桶冰淇淋的容量是1.2_____

 小安今天到圖書館看書，在早上看了2時39分，在下午看了6時57分，請問小安今天共看書多少小時多少分鐘？


算式填充題：_____

橫式記錄

$$2\text{時} + 6\text{時} =$$

$$39\text{分} + 57\text{分} = \quad \text{分} = \quad \text{時} \quad \text{分}$$

直式記錄


 舅舅環島旅行，從高雄往南出發到達花蓮共花3日19時，再從花蓮往北出發再回到高雄共花8日23時，舅舅這一次的環島旅行花了幾日幾時？

算式填充題：_____



橫式記錄

直式記錄

 小強放了二首音樂歌曲，分別花了4分37秒和5分56秒，共花了幾分幾秒的時間？

算式填充題：_____



橫式記錄

直式記錄



$$2\text{時}43\text{分} + 8\text{時}37\text{分}$$

$$= (\quad)\text{時}(\quad)\text{分}$$

	時	分
	2	43
+	8	37
	10	80
	11	20



$$9\text{時}28\text{分} + 12\text{時}56\text{分}$$

$$= (\quad)\text{時}(\quad)\text{分}$$



$$1\text{時}45\text{分} + 6\text{時}38\text{分}$$

$$= (\quad)\text{時}(\quad)\text{分}$$



$$13\text{日}21\text{時} + 25\text{日}18\text{時}$$

$$= (\quad)\text{日}(\quad)\text{時}$$



$$8\text{時}49\text{分} + 11\text{時}28\text{分}$$

$$= (\quad)\text{時}(\quad)\text{分}$$

汽油5273公升，如果要分裝在每個容量都是18公升的油桶裏，最少需要幾個油桶才能全部裝完？

算式填充題：_____



答：

水果店買進7900個蘋果，其中有28個是壞掉的，其餘完好的分裝成32籃，請問每籃可以裝多少個蘋果？



算式填充題：_____


答：

🍦 大小二數的積是3922，已知小數是53，求大小二數的和是多少？

一式完成：



🍦 有一堆 ，若每包裝52公斤，共可以裝滿187包，還剩下26公斤，請問這一堆  有多少公斤？如果全部平均改裝成130包，每包重多少公斤？

🍦 有6275塊 ，分給參加派對的小朋友，每人得到29塊，還剩下11塊，請問參加派對的小朋友有多少人？

一式完成：

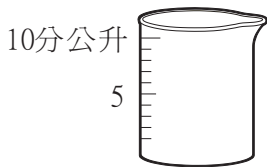
🍦 4517最少要再加上多少，才能被64整除？

0.7公升 = _____ 分公升 = _____ 毫公升

0.48公升 = _____ 分公升 = _____ 毫公升

0.152公升 = _____ 分公升 = _____ 毫公升

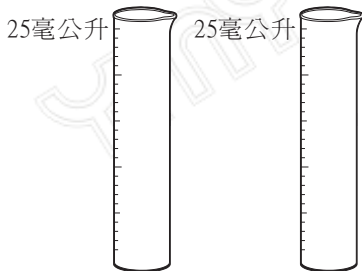
在下列的杯子上，畫出指定的水量？



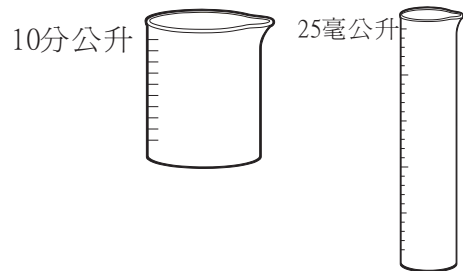
6分公升



900毫公升



37毫公升



521毫公升

請將「公升」、「分公升」，「毫公升」填入空格內

☀️一杯重量杯的飲料大約有6_____

☀️一包綠茶茶包大約需要用150_____的熱開水沖泡

☀️多喝水對身體有益，每個人一天最好要喝2_____以上的水

☀️一瓶礦泉水的容量有800_____，也可以說是8_____



下面的說法可能是正確的請打✓，錯誤的請打×

☀️() 外婆煮一鍋蔬菜湯共用了4毫公升的水

☀️() 我今天下午喝了一瓶11分公升的果汁

☀️() 叔叔每次澆花大約用去5分公升的水

☀️() 哥哥上完體育課一口氣就喝20公升的白開水

☀️() 浴室裡洗臉台大約可裝水1300分公升