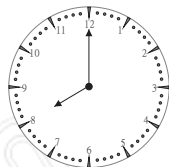


下面是11月29日星期六ACE電視台的節目時刻表：

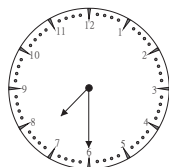
TV SHOW	
8:00	土豆超人
8:45	益智競賽
10:00	皮蛋家族歷險記
11:10	廚藝天地
12:00	午間新聞
12:30	動物世界奇觀
14:00	音樂欣賞
14:25	小紅帽與大野狼
?	快樂學英文
18:00	晚間新聞
19:30	超級魔術師

請看上表回答以下所有的問題：

- (1) 在音樂欣賞之前的那一個節目名稱是_____
- (2) 小儒在下午2時30分開始做功課到下午6時3分，這段時間內他有哪些節目完全看不到？_____
- (3) 小仁在上午9時10分正在參加電視節目的錄影，請問他是參加哪一個節目？_____
- (4) 在時間的直線上，找出電視節目時刻表中節目開始的時刻，把這些節目記下來，完成下圖：









續下頁

TV SHOW			
8:00	土豆超人	14:00	音樂欣賞
8:45	益智競賽	14:25	小紅帽與大野狼
10:00	皮蛋家族歷險記	?	快樂學英文
11:10	廚藝天地	18:00	晚間新聞
12:00	午間新聞	19:30	超級魔術師
12:30	動物世界奇觀		

算算看，每個節目分別是播出了多少時間？請把它填在表格：

時間 節目名稱	播出時間	時間 節目名稱	播出時間
土豆超人	45 分鐘	午間新聞	分鐘
益智競賽	分鐘	動物世界奇觀	分鐘
皮蛋家族歷險記	分鐘	音樂欣賞	分鐘
廚藝天地	分鐘	晚間新聞	分鐘

☀️ 一天的新聞節目有_____次，一共播了_____時_____分。

☀️ 「超級魔術師」一共播放了95分鐘，請問「超級魔術師」會在幾時幾分播完？_____

☀️ 如果在播「晚間新聞」之前的47分鐘，開始播放「快樂學英文」，那麼「快樂學英文」會在什麼時刻開始播映？_____

☀️ 「小紅帽與大野狼」播放的時間有多長？_____

☀️ 今天播出時間最短的是哪一個節目？_____



環保清潔隊上午工作了3時52分19秒，下午工作了6時34分10秒

請問：① 這一天一共工作了幾時幾分幾秒？

② 上午的工作時間比下午少了幾時幾分幾秒？

YMY

YMY

答：① _____

② _____



小薇參加書法課用掉9日13時28分，郁雯參加游泳課用掉4日21時35分，

請問：① 兩人合起來共花掉幾日幾時幾分？

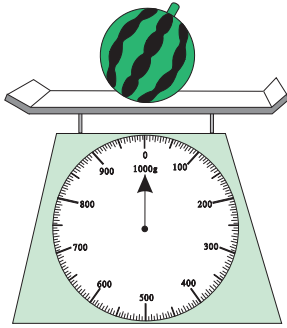
② 兩人相差幾日幾時幾分？

YMY

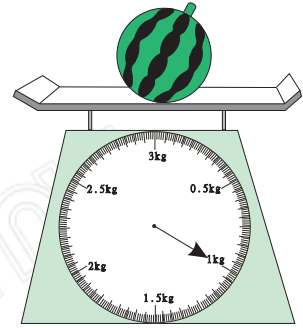
YMY

答：① _____

② _____



() g



() kg

從一個秤上拿到另一個秤上去，西瓜的重量會不會改變？
 所以1公斤 = _____ 公克，也可寫成 $1\text{kg} = \text{_____} \text{g}$

(甲)

櫻桃



670公克

(乙)

鳳梨



2kg100g

(丙)


蘋果



3450公克

(丁)

香蕉



1公斤830公克

(戊)

蕃茄



4公斤

☀ 比較所有水果的重量，由重而輕依序排出

(甲) 櫻桃： 670克

(丁) 香蕉： _____

(乙) 鳳梨： _____

(戊) 蕃茄： _____

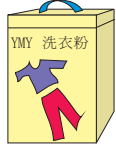
(丙) 蘋果： _____

_____ > _____ > _____ > _____ (請填入代號)

☀ 比較1個鳳梨和1個蕃茄相差幾公克？

爸爸到大賣場買了一些東西，各樣東西的重量如下：

洗衣粉



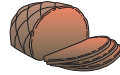
每包2600公克

蕃茄醬



每瓶650公克

牛肉



每包900公克

西洋梨



每盤2公斤

白米



每包3100公克


(1) 3瓶蕃茄醬一共重多少公斤多少公克？

(2) 2包白米和5包牛肉哪一個比較重？重多少？

(3) 一包洗衣粉的重量是一瓶蕃茄醬的幾倍？

(4) 如果每一種東西都買1個，可不可以全部裝進一個可承受10公斤重的袋子裡？

(5) 裝西洋梨的盤子的重量是380公克，請問1個西洋梨重多少公克？



每袋果汁的重量是1公斤430公克，請問6袋果汁共有多少公斤多少公克？

算式填充題：1公斤430公克 \times 6=()公斤()公克

方法1：可用複名數的計算

$$1\text{公斤}\times 6=6\text{公斤}$$

$$430\text{公克}\times 6=2580\text{公克}=2\text{公斤}580\text{公克}$$

$$6\text{公斤}+2\text{公斤}580\text{公克}=8\text{公斤}580\text{公克}$$

方法2：可化成公克單位計算

$$1\text{公斤}430\text{公克}=1430\text{公克}$$

$$1430\text{公克}\times 6=8580\text{公克}$$

$$8580\text{公克}=8\text{公斤}580\text{公克}$$

答：_____



請依規定的方法完成下列各題

- ★ 每包餅乾重590公克，每瓶可樂重1公斤800公克，如果各買7個，共重多少公斤多少公克？

方法1

★ $3\text{公斤}276\text{公克}\times 9$
 $=(\quad)\text{公斤}(\quad)\text{公克}$

方法2

★ $5\text{公斤}810\text{公克}\times 4$
 $=(\quad)\text{公斤}(\quad)\text{公克}$

方法2

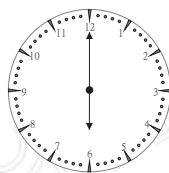
下面是11月29日星期六 ACE 電視台的節目時刻表：

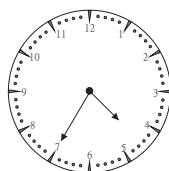
TV SHOW

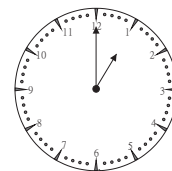
0:00	古典名曲介紹	13:00	音樂欣賞
2:15	南極探險隊	16:35	無敵鐵金鋼
4:00	明日科技產業	18:00	世界新聞全球報導
?	生活資訊站	19:00	城堡之旅
10:30	體育天地	21:40	海洋生物介紹
12:00	午間新聞	23:00	新書介紹

請看上表回答以下所有的問題：

- (1) 午間新聞之後的名稱是 _____
- (2) 小儀在下午4時30分放學回到家開始看電視，到下午6時10分才到房間讀書，哪個節目他可以從頭到尾看完？ _____
- (3) 在時間的直線上，找出電視節目時刻表中節目開始的時刻，並把這些節目記下來：









TV SHOW

0:00	古典名曲介紹	13:00	音樂欣賞
2:15	南極探險隊	16:35	無敵鐵金鋼
4:00	明日科技產業	18:00	世界新聞全球報導
?	生活資訊站	19:00	城堡之旅
10:30	體育天地	21:40	海洋生物介紹
12:00	午間新聞	23:00	新書介紹

算算看，每個節目分別是播出了多少時間？請把它填在表格裡：

節目名稱	播出時間 (分鐘)	節目名稱	播出時間 (分鐘)
古典名曲介紹	135 分鐘	南極探險隊	
體育天地		午間新聞	
音樂欣賞		無敵鐵金鋼	
世界新聞全球報導		城堡之旅	
海洋生物介紹		新書介紹	

☀ 如果在播「體育天地」之前的180分鐘，開始播放「生活資訊站」，那麼「生活資訊站」會在什麼時間開始播放_____

☀ 「明日科技產業」播放的時間有多長？_____

☀ 「新書介紹」一共播放了49分鐘，播完時間會在_____時_____分。

☀ 今天播出時間最短的節目名稱是？_____



木匠做一個衣櫥要花12日8時37分，做一張床要花5日21時54分

請問：① 各做一樣所花的時間共要花幾日幾時幾分？

② 各做一樣所花的時間相差幾日幾時幾分？

YmY

YmY

答：① _____

② _____



外婆織了一套服裝，一件裙子花費7時26分9秒，

一件背心花費2時54分37秒，

請問：① 做好一件裙子和一件背心，共用去幾時幾分幾秒？

② 做一件裙子比一件背心多花費幾時幾分幾秒？

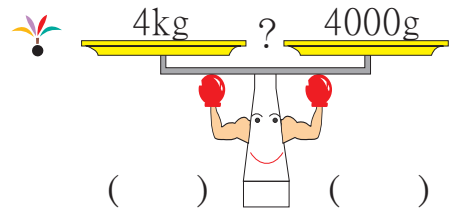
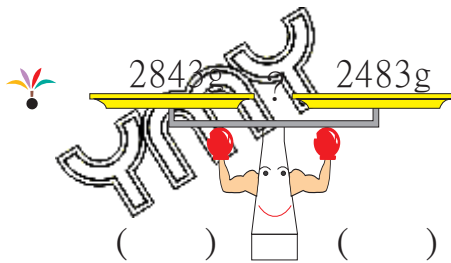
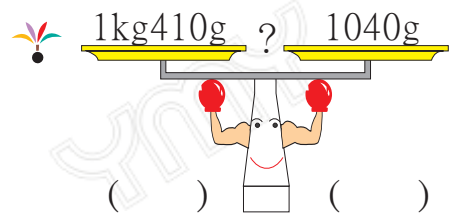
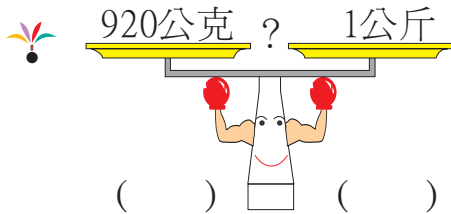
YmY

YmY

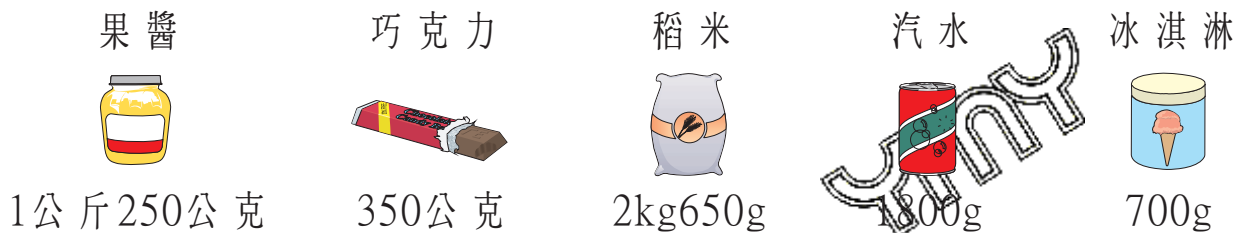
答：① _____

② _____

比一比，哪個比較重，請打 \checkmark ，哪個比較輕，請打 \times ，都一樣重，請打 \bigcirc



比比看，哪一邊比較重？請在 \square 內填上 $>$ ， $=$ ， $<$



一罐果醬 \square 一條巧克力和一桶冰淇淋

一罐汽水和一條巧克力 \square 一包稻米

四條巧克力 \square 一罐果醬

一條巧克力和一包稻米 \square 一罐果醬和一罐汽水

阿姨到購物中心買了些東西，各種東西的重量如下：

豬肉	木瓜	雞腿	草莓醬	冰淇淋
				
每包1450公克	每盤3公斤	每包2100公克	每瓶1公斤	每桶250公克

- (1) 3包豬肉重多少公斤多少公克？ (2) 3盤木瓜比2包雞腿哪一個比較輕？
輕多少？

YmY

- (3) 一瓶草莓醬的重量是一桶冰淇淋的幾倍？ (4) 木瓜盤子的重是320公克，請問
1個木瓜重多少？

YmY

- (5) 如果每一種東西都買一份，可不可以全部都裝進一個可承受6公斤的袋子裡？(包括盤子、瓶子、桶子的重量)



一套百科全書重2公斤375公克，請問5套百科全書重多少公斤多少公克？

算式填充題：2公斤375公克 \times 5=()公斤()公克

方法1：可用複名數的計算

方法2：可化成公克單位計算

$$2\text{公斤} \times 5 = \underline{\quad\quad\quad} \text{公斤}$$

$$2\text{公斤}375\text{公克} = \underline{\quad\quad\quad} \text{公克}$$


$$375\text{公克} \times 5 = \underline{\quad\quad\quad} \text{公克} = \underline{\quad\quad} \text{公斤} \underline{\quad\quad} \text{公克}$$


$$\underline{\quad\quad} \text{公斤} \underline{\quad\quad} \text{公克}$$

$$= (\quad) \text{公斤} (\quad) \text{公克}$$

$$= (\quad) \text{公斤} (\quad) \text{公克}$$

答：重()公斤()公克

 請用指定的方法完成下列各題：

 一瓶冷洗精重750公克，一瓶洗衣乳重2公斤150公克，請問各買3瓶，共重多少公斤多少公克？

方法1

$$\text{4公斤}380\text{公克} \times 6 = (\quad) \text{公斤} (\quad) \text{公克}$$

方法1

$$\text{8公斤}926\text{公克} \times 4 = (\quad) \text{公斤} (\quad) \text{公克}$$

方法2

