


-  每包巧克力重 1 公斤 400 公克，裡面共有 40 顆巧克力，請問每顆巧克力重多少公克？

算式填充題：1 公斤 400 公克 \div 40 = () 公克

都化成公克的單位做做看：

1 公斤 400 公克 = 1400 公克


1400 公克 \div 40 =


$$40 \overline{)1400}$$

答：

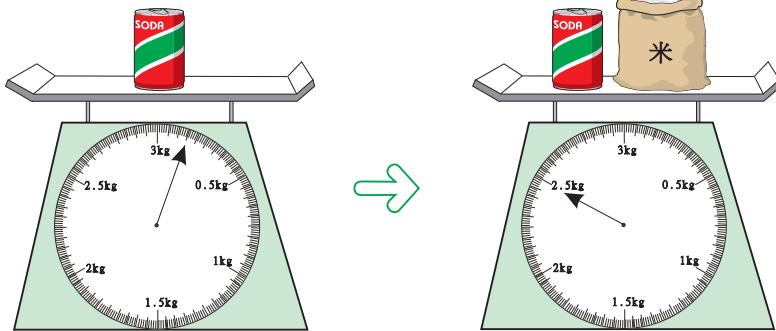
請依規定的方法完成下列各題：

-  2 包雞塊共重 3 公斤 680 公克，如果每包雞塊有 80 個，平均每個雞塊重多少公克？


 2 公斤 583 公克 \div 41
= () 公克

 4 公斤 212 公克 \div 78
= () 公克

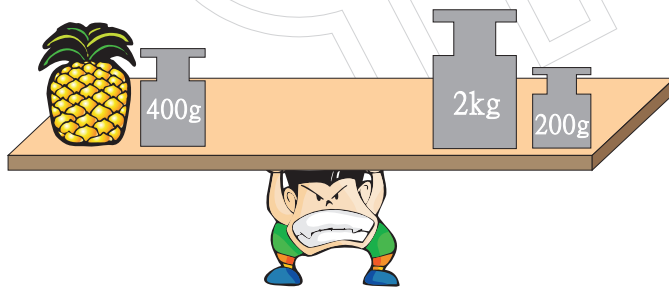




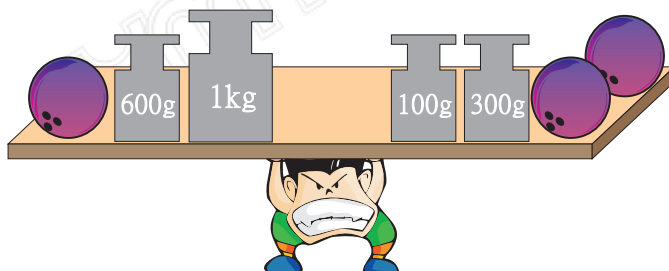
請問一袋米有多重？



請問每個蘋果的重量
 是多少？



請問一個鳳梨有多重？



請問 3 個保齡球是多
 少公斤多少公克？

1 公斤 = 1000 公克 ， 1 台斤 = 600 公克

1 台斤 = 1 斤 ， 台斤是 台灣 地區經常使用的重量單位

1 台斤 (> , = , <) 1 公斤



★ 阿姨買了 6 公斤的豬肉，媽媽買了 6 台斤的豬肉，請問誰買的豬肉比較多？

先把公斤和台斤都化成公克

6 公斤 = _____ 公克

6 台斤 = _____ 公克

_____ 公克 > _____ 公克

答：

★ 伯母花 500 元買 10 台斤的橘子，外婆花 500 元買 10 公斤的橘子，請問誰買的橘子比較便宜？

★ 媽媽買了 4.5 公斤的檸檬和 8 台斤的西瓜，哪一個比較重？重多少？







☀️ 1包糖果重 100 公克，10 包糖果合起來重 1 公斤

1 包糖果重 _____ 公克，是 $\frac{1}{10}$ 公斤，也可以說是 0.1 公斤。

2 包糖果重 _____ 公克，是 _____ 公斤，也可以說是 _____ 公斤。

5 包糖果重 _____ 公克，是 _____ 公斤，也可以說是 _____ 公斤。

9 包糖果重 _____ 公克，是 _____ 公斤，也可以說是 _____ 公斤。

☀️ 四隻小狗秤體重， 重 0.8 公斤， 重 2 公斤 700 公克， 重 1.5 公斤， 重 4 台斤，請問最重和最輕相差多少公克？也就是相差多少公斤？

☀️ 1 台斤 = _____ 公克 = _____ 公斤。

4 公斤 200 克 = _____ 克 = _____ 公斤 = _____ 台斤。

7.8 公斤 = _____ 台斤 = _____ 公克。

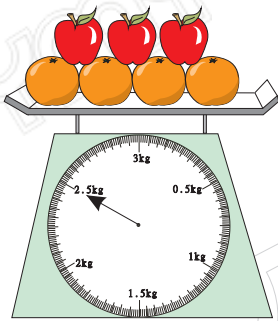
$9\frac{6}{10}$ 公斤 = _____ 克 = _____ 台斤

對的打○，錯的打×

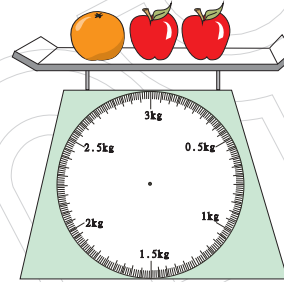
- ☀ () 1台斤比1公斤重
- ☀ () $\frac{3}{10}$ 公斤是300公克
- ☀ () 10個0.1公斤合起來和1000公克一樣重

算算看，把作法寫下來：

☀ 一個  = 400 克



() 公斤



() 公斤

- ☀ 凱凱為了讓自己的身材變好，下定決心要減肥。第一個星期減了900公克，第二個星期減了0.4公斤，第3個星期減了1台斤，第4個星期減了1公斤 200 公克。凱凱原來的體重是60公斤，四個星期後能減到55公斤嗎？如果不能，還要再減多少公斤呢？






藍琪打大哥大給他的朋友，第一通打了 53 秒，第二通打了 2 分 26 秒，第三通打了 5 分 49 秒，如果大哥大通話費是以 15 秒收費 1 元來計費，不滿 15 秒仍以 15 秒計費，這三通電話費有沒有超過 40 元呢？



爸爸上班請假到長庚醫院看病，來回車程共花了 49 分鐘，等候看病又花了 24 分鐘，身體檢查花了 53 分鐘，等候領藥及繳費共花了 37 分鐘，爸爸事前先向公司請假 2.5 個小時，請問爸爸請假的時間夠不夠？如果不夠，還差幾分鐘？



 1箱飲料重 2 公斤 736 公克，每箱有 24 瓶飲料，請問每瓶飲料重多少公克？

算式填充題：_____


讓我們用化成公克的單位做做看：

2 公斤 736 公克 = 公克


公克 \div = () 公克

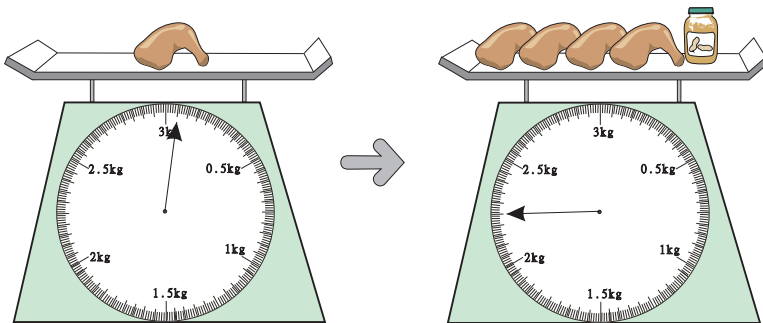
答：

請依照小老師的方法完成下列各題：

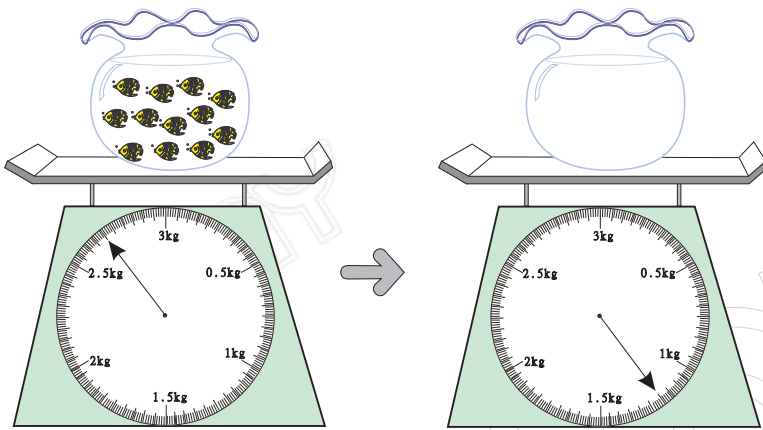
 3 袋餅乾共重 4 公斤 725 公克，如果每袋裝有 45 個小餅乾，平均每個小餅乾重多少公克？

 3 公斤 816 公克 \div 53
= () 公克


 6 公斤 438 公克 \div 87
= () 公克



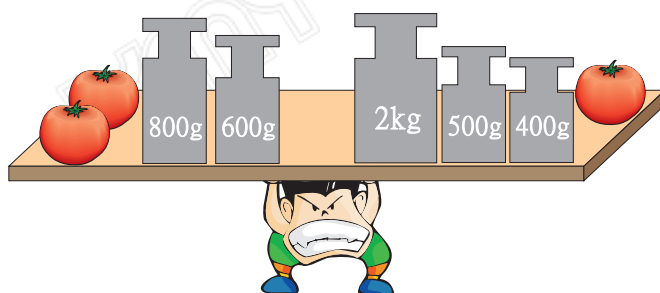
請問一罐花生醬有多重？



請問每條魚的重是多少？



請問一個西瓜有多重？



請問 4 個蕃茄的重量是
多少公斤多少公克？

1公斤=_____公克，1台斤=_____公克

我們常說的1斤是指（1公斤，1台斤）

1台斤的重量比1公斤的重量（輕，重）

☀ 姑姑買了3台斤的豆乾，阿姨買了3公斤的豆乾，請問誰買的豆乾比較少？

先把台斤和公斤都化成公克

3台斤=_____公克

3公斤=_____公克

_____公克 < _____公克

答：

☀ 媽媽花800元買12公斤的水蜜桃，奶奶花800元買了12台斤的水蜜桃，請問誰買的水蜜桃比較貴？

☀ 爸爸到市場上買了14台斤的蕃茄和8.5公斤的蕃薯，請問哪一種比較輕？輕多少？



✿ 一塊巧克力重 100 公克，十塊巧克力合起來重 1 公斤

一塊巧克力重 _____ 公克，是 _____ 公斤，也可以說是 _____ 公斤。

三塊巧克力重 _____ 公克，是 _____ 公斤，也可以說是 _____ 公斤。

五塊巧克力重 _____ 公克，是 _____ 公斤，也可以說是 _____ 公斤。

八塊巧克力重 _____ 公克，是 _____ 公斤，也可以說是 _____ 公斤。

翔翔把他的五種玩具一一拿出來分別稱重，其結果如下：

大貨車



2 公斤 500 公克

機器人



3 台斤

布偶熊



1.9 公斤

搬運車



1200 公克

玩具貓



1 公斤

請問最重和最輕相差多少公克？也就是相差多少公斤？

✿ 2 台斤 = _____ 公克 = _____ 公斤。

4.2 公斤 = _____ 台斤 = _____ 公克

7 公斤 200 公克 = _____ 克 = _____ 公斤 = _____ 台斤

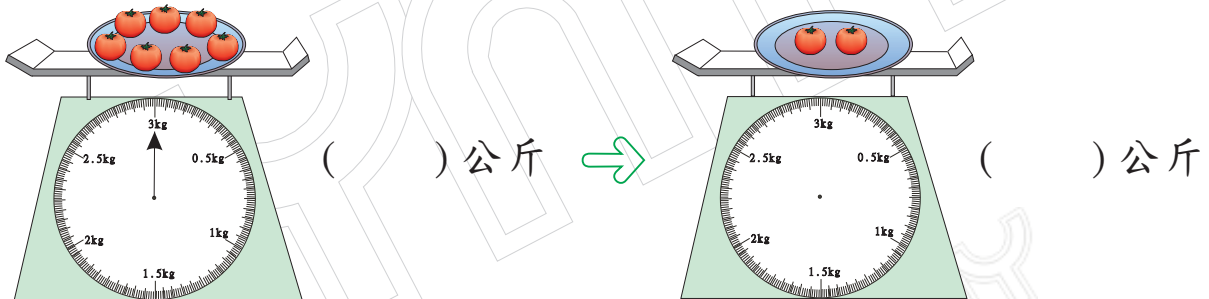
$5\frac{4}{10}$ 公斤 = _____ 克 = _____ 台斤

選擇題：

- ☀ () 下面哪一個不是重量的單位？
 (① 公克 ② 公尺 ③ 公斤 ④ 台斤)
- ☀ () 下列哪一段敘述最為正確？
 (① 1 公斤 = 600 公克，1 台斤 = 1000 公克
 ② 1 公斤 750 公克 = 1570 公克
 ③ 4800 公克 = 4.8 公斤 = 8 台斤
 ④ 0.6 公斤 = 1 台斤 = 60 公克)
- ☀ () 1 公斤的鐵和 1000 公克的棉花，哪一個比較重？
 (① 1 公斤的鐵 ② 1000 公克的棉花 ③ 一樣重 ④ 無法比較)

看圖算算看：

☀ 一個 🍎 重 350 克



- ☀ 搬家公司請了 4 位工人，A 工人一次可搬 24.8 公斤，B 工人一次可搬 39 台斤，C 工人一次可搬 22198 公克，D 工人一次可搬 23 公斤 726 公克，請問哪一個工人一次搬的東西最重？哪一個搬的最輕？最重和最輕相差多少公斤多少公克？



姊姊今天早上 6:30 起床，刷牙、洗臉花了 15 分鐘，吃早餐花了 28 分鐘，整理服裝儀容花了 10 分鐘，走路到火車站花了 19 分鐘，候車時間花了 12 分鐘，再從高雄站坐火車到台南要花 43 分鐘，再走路到學校上課只要 5 分鐘，姊姊今天的第一堂課在 9:00，請問姊姊今天上課是否有遲到呢？



龜兔賽跑，今天大家要跑的距離是 2 公里，以烏龜的速度需要 4.5 個小時才能走完全程，如果以兔子的速度只需要 1 個小時就可以走到終點。兔子跑到一半在樹下睡著了，一睡就睡了 170 分鐘，醒來後再繼續跑。請問這次的比賽誰贏了？贏了多少時間？